







Nombre: .....

⊙ Completa y relaciona.

.....  
 .....  
 .....

cabeza •

.....  
 .....  
 .....

brazo •



• hombro

• muñeca

.....  
 .....  
 .....

• tobillo

⊙ Escribe los nombres de un hueso y de un músculo que estén usando los niños del dibujo.



.....  
 .....  
 .....

⊙ ¿Qué es el esqueleto?

.....  
 .....  
 .....



Nombre: .....

⊙ Escribe debajo el nombre del aparato que corresponde.



.....  
 .....  
 .....



.....  
 .....  
 .....



.....  
 .....  
 .....

⊙ Coloca cada una de las palabras en la columna correspondiente.

estómago

pulmón

corazón

sangre

dientes

nariz

aparato respiratorio	aparato circulatorio	aparato digestivo
..... ..... .....	..... ..... .....	..... ..... .....
..... ..... .....	..... ..... .....	..... ..... .....

⊙ Completa la frase.

El corazón es un ..... que late  
 sin parar.



Nombre: .....

⊙ Escribe las respuestas.

¿Quién es la madre de tu madre?

.....  
 .....  
 .....

¿Y el hijo de tus tíos?

.....  
 .....  
 .....

¿Y la hermana de tu padre?

.....  
 .....  
 .....

⊙ Ordena las fiestas, escribiendo del 1 al 5, según cuándo se celebren.

Nochevieja

Nochebuena

Reyes Magos

Navidad

Año Nuevo

⊙ Relaciona y escribe debajo las frases completas.



Los padres de mis primos •

• son mis primos.

Mis primos son sobrinos •

• son mis tíos.

Los hijos de mis tíos •

• de mis padres.

.....  
 .....  
 .....  
 .....  
 .....  
 .....  
 .....



Nombre: .....

⊙ Completa la frase.

Los mamíferos y las aves son animales

\_\_\_\_\_ porque tienen \_\_\_\_\_ en su interior.

⊙ Escribe donde corresponde.

ave

vivíparo

mamífero

ovíparo



\_\_\_\_\_

\_\_\_\_\_

⊙ Clasifica estos vertebrados según su alimentación.

elefante

canario

lechuza

chimpancé

lobo

gallo

	herbívoro	carnívoro	omnívoro
ave	_____	_____	_____
mamífero	_____	_____	_____



Nombre: .....

- ⊙ Explica la diferencia entre animales vertebrados e invertebrados.

---



---

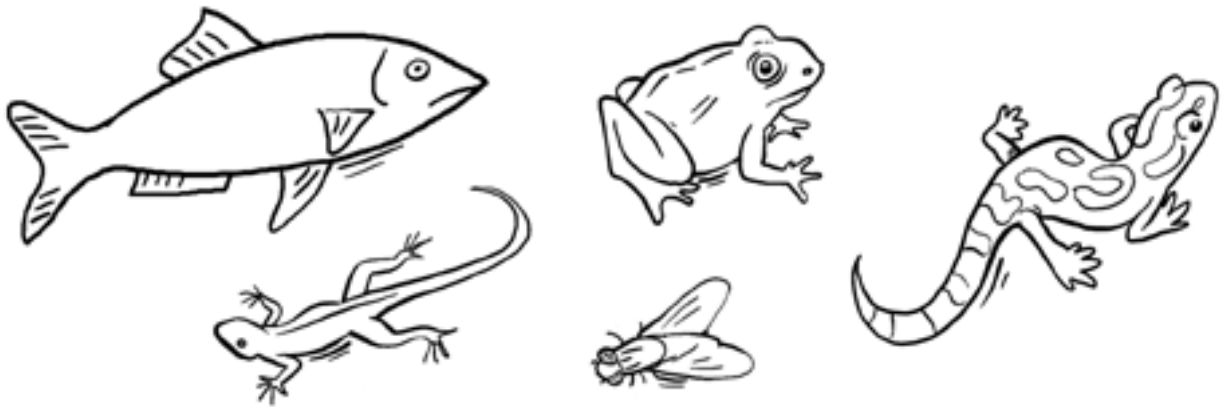


---



---

- ⊙ ¿Qué animal tiene escamas? Dibújaselas.



- ⊙ Completa la frase.

Los insectos son animales \_\_\_\_\_,  
que se reproducen por huevos.

Tienen \_\_\_\_\_ patas y \_\_\_\_\_  
antenas y algunos tienen \_\_\_\_\_.

- ⊙ ¿La salamandra es un anfibio o un reptil? Explica porqué.

---



---



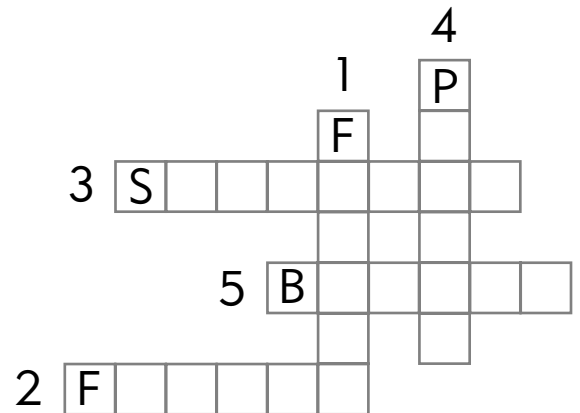
---



Nombre: .....

⊙ Averigua las palabras que faltan en el texto y escríbelas en el crucigrama.

- Algunas plantas tienen (1).
- De ellas salen los (2), en cuyo interior se encuentran las (3).
- Cuando estas caen al suelo, germinan dando lugar a una nueva (4), a la que con el tiempo le (5) nuevas flores.



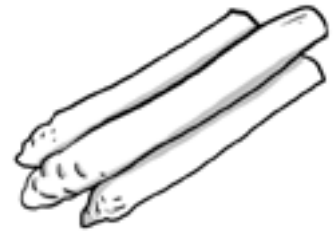
⊙ Escribe qué parte de la planta nos comemos en cada caso.



\_\_\_\_\_



\_\_\_\_\_



\_\_\_\_\_



\_\_\_\_\_



\_\_\_\_\_



\_\_\_\_\_





Nombre: .....

- ⊙ Ordena los grupos de palabras y reescribe la frase correctamente.

animales y plantas / los gases necesarios / La atmósfera,  
/ las personas, / para vivir. / nos proporciona a

---



---



---



---

- ⊙ ¿En qué estado se encuentra el agua?




---



---



---

- ⊙ Escribe la respuesta correcta.

¿Qué elemento abunda más en la superficie terrestre?

---



---

- ⊙ Anota cuatro lugares donde podemos encontrar agua en la naturaleza.

---



---



---



---



Nombre: .....

- ⊙ Tachas las palabras equivocadas y escribe las frases correctamente.

La Luna tarda 28 días en dar una vuelta alrededor del Sol.

La Tierra tarda 12 meses en dar una vuelta alrededor de la Luna.

---



---



---

- ⊙ Relaciona.

① Sol

② Tierra

③ Luna

○ planeta

○ estrella

○ satélite

- ⊙ Ordena los momentos de un día y anota sus nombres.




---



---



---



Nombre: .....

- ⊙ Fíjate en este horario ¿Qué asignaturas tienes el miércoles a las 11 de la mañana y el viernes a las 9? Rodéalas.

	lunes	martes	miércoles	jueves	viernes
9	conocimiento del medio	matemáticas	inglés	educación física	lengua
10	plástica	lengua	matemáticas	lengua	matemáticas
11	lengua	educación física	conocimiento del medio	plástica	inglés

- ⊙ Escribe la fecha de tu nacimiento. ¿Cuántos años han pasado?

---



---

- ⊙ Completa las frases.

Un día tiene \_\_\_\_\_ horas.

Una semana tiene \_\_\_\_\_ días.

Un mes tiene \_\_\_\_\_ semanas.

Un año tiene \_\_\_\_\_ meses.



- ⊙ Explica la frase.

El invento de la rueda hace más fácil la vida de las personas.

---



Nombre: .....

⊙ Escribe el nombre de estas tiendas y de un producto que puedas comprar en ellas.



① \_\_\_\_\_

② \_\_\_\_\_

⊙ Completa la frase.

Las materias primas y los productos elaborados se venden en las \_\_\_\_\_, el \_\_\_\_\_ y en los \_\_\_\_\_.

⊙ ¿Qué hace falta para comprar? Descúbrelo resolviendo el código.

5	8	9	0	7	6
i	d	o	r	e	n

8	5	6	7	0	9

⊙ ¿De qué formas se puede pagar en un comercio? Escríbelo.

\_\_\_\_\_



Nombre: .....

⊙ ¿Qué transmiten estas imágenes?



① \_\_\_\_\_

② \_\_\_\_\_

⊙ Anota a continuación el medio de comunicación que utilizas.

Escribo a los Reyes Magos: \_\_\_\_\_

Hablo con mi tía de París: \_\_\_\_\_

Envío un e-mail a mi hermana: \_\_\_\_\_

⊙ Ordena las siguientes viñetas.



⊙ ¿Qué medio de comunicación ha utilizado el niño de la actividad anterior?

\_\_\_\_\_



Nombre: .....

- ⊙ Tacha las palabras equivocadas y escribe la frase correctamente.

Cuando hacemos turismo nos quedamos en el mismo lugar donde vivimos, no conocemos otros lugares, ni costumbres, ni personas diferentes.

---



---



---

- ⊙ Relaciona cada lugar con el objeto que te llevarías.

ciudad •

playa •

montaña •



- ⊙ Subraya y contesta a las preguntas.

¿Dónde prefieres pasar tus vacaciones? ¿Por qué?

a) playa

b) campo

c) montaña

---



---



Nombre: .....

- ⊙ Observa estas dos ilustraciones y anota las diferencias.




---



---



---

- ⊙ Completa la frase.

Las cosas que haces pertenecen al \_\_\_\_\_.

Las que sucedieron antes son el \_\_\_\_\_ y las que no han sucedido forman parte del \_\_\_\_\_.

- ⊙ Escribe el nombre de tres platos típicos de tu Comunidad.

---



---



---